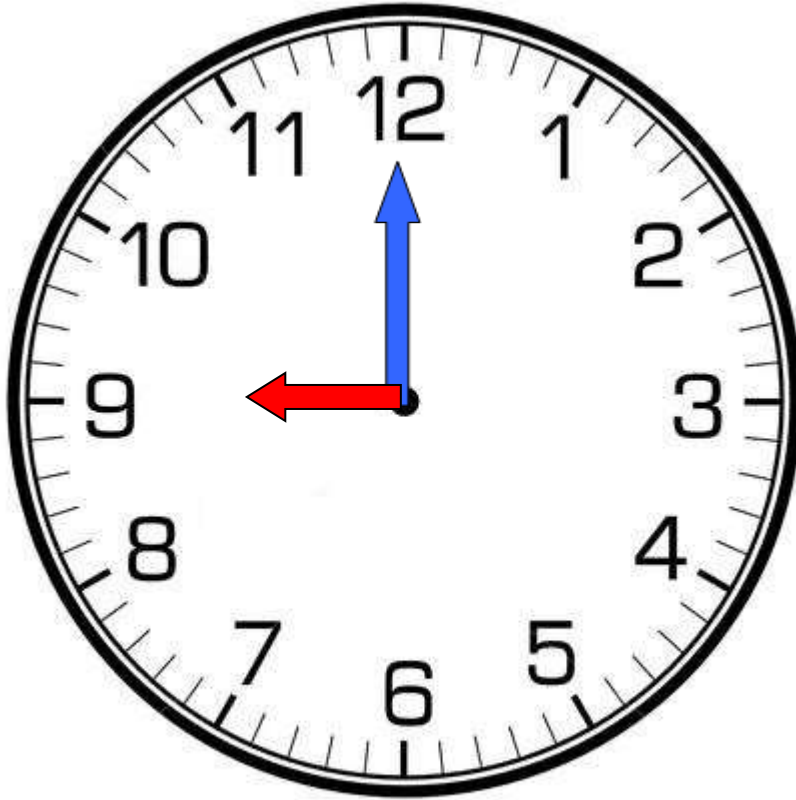


# とけい 時計のプリント

月 日

なまえ  
名前

とけい 時計には **じかん** 時間を **ふん** 分をさす針と **はり** 針がある。



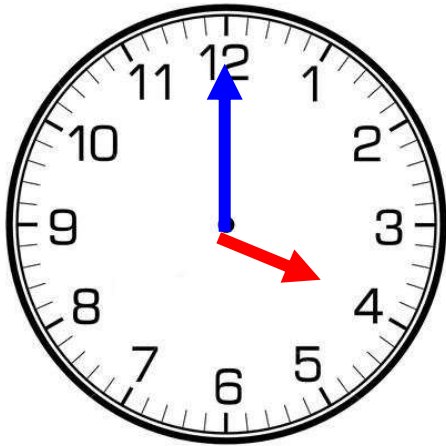
みじかい **はり** 針が  をあらわしている。

ながい **はり** 針が  をあらわしている。

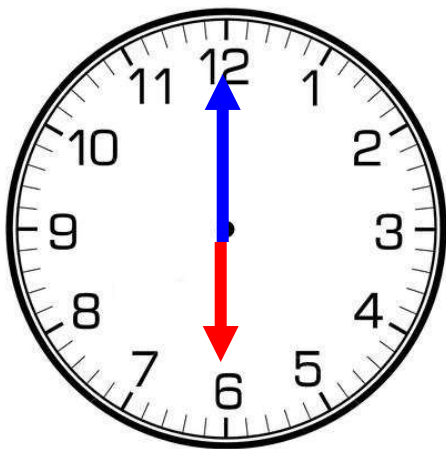
(もんだい) **うえ** 上の時計は何時をさしているでしょう？

じ時

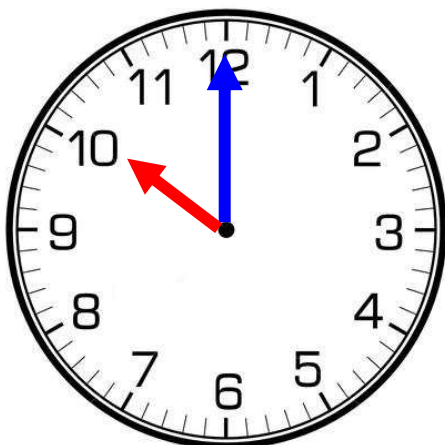
(もんだい) <sup>とけい</sup> 時計は <sup>なんじ</sup> 何時をさしているでしょう？



じ時



じ時



じ時